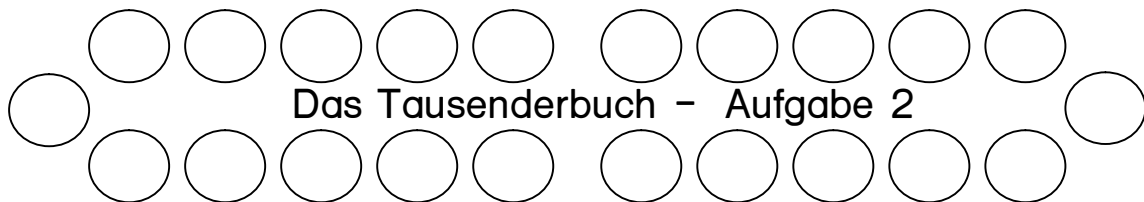


Das Tausenderbuch - Aufgabe 1

Schlage die erste Seite auf. Unten rechts findest du eine **100**.

Zähle mit dem Finger von der 60 bis zur 90.

Schreibe die Zahlen hintereinander in dein Heft.

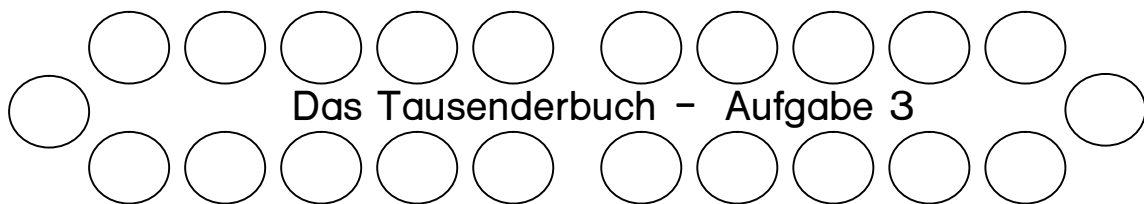


Das Tausenderbuch - Aufgabe 2

Schlage die erste Seite auf. Unten rechts findest du eine **100**.

Zähle mit dem Finger von der 90 bis zur 110.

Schreibe die Zahlen hintereinander in dein Heft.

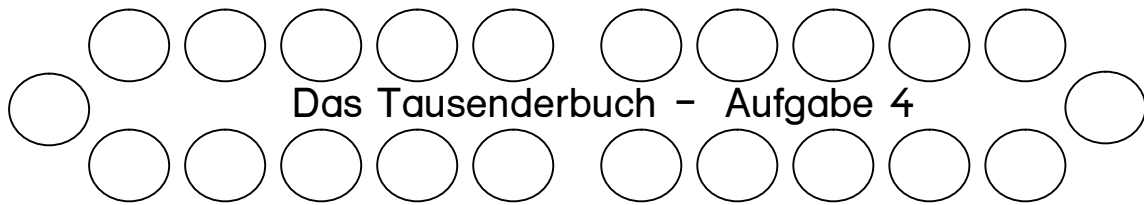


Das Tausenderbuch - Aufgabe 3

Schlage die zweite Seite auf. Unten rechts findest du eine **200**.

Zähle mit dem Finger von der 190 bis zur 210.

Schreibe die Zahlen hintereinander in dein Heft.

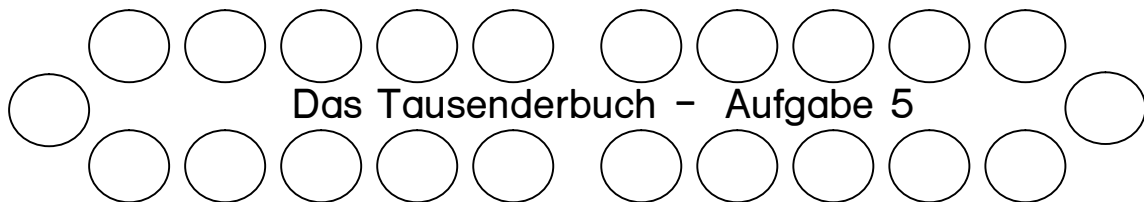


Das Tausenderbuch - Aufgabe 4

Schlage die dritte Seite auf. Unten rechts findest du eine **300**.

Zähle mit dem Finger von der 295 bis zur 305.

Schreibe die Zahlen hintereinander in dein Heft.

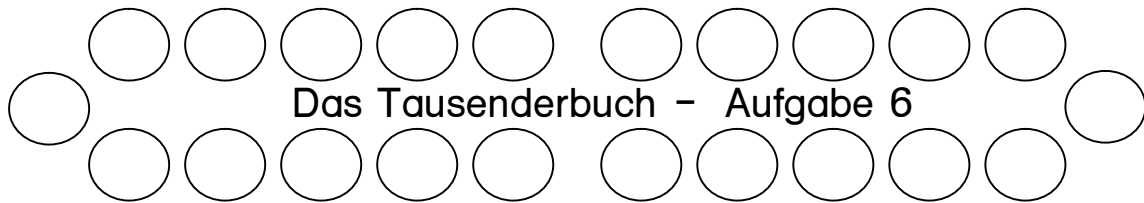


Das Tausenderbuch - Aufgabe 5

Schlage die vierte Seite auf. Unten rechts findest du eine **400**.

Zähle mit dem Finger von der 389 bis zur 410.

Schreibe die Zahlen hintereinander in dein Heft.

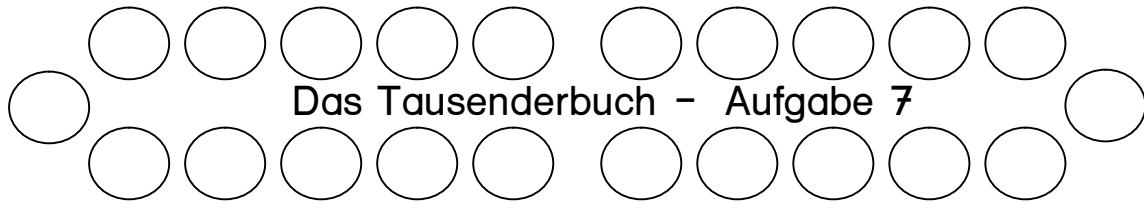


Das Tausenderbuch - Aufgabe 6

Schlage die fünfte Seite auf. Unten rechts findest du eine **500**.

Zähle mit dem Finger von der 490 bis zur 504.

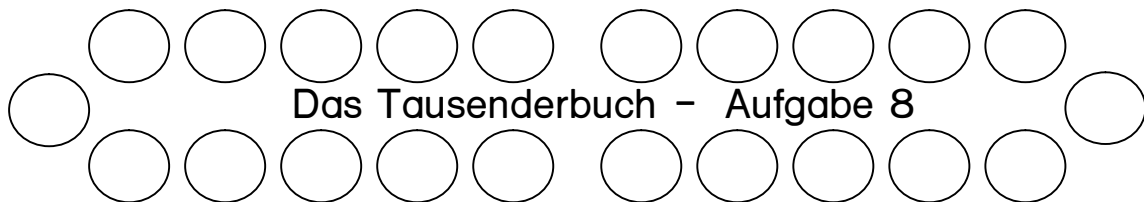
Schreibe die Zahlen hintereinander in dein Heft.



Schlage die sechste Seite auf. Unten rechts findest du eine **600** .

Zähle mit dem Finger von der 594 bis zur 606.

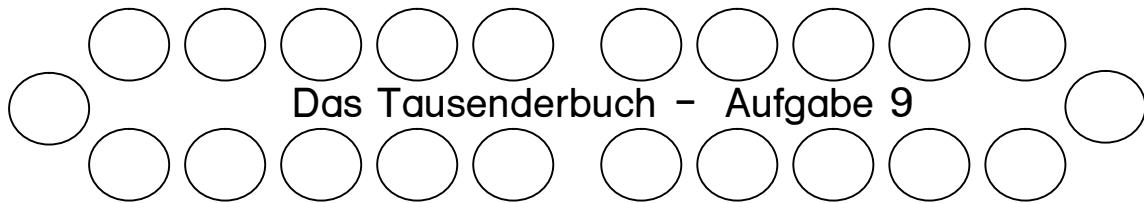
Schreibe die Zahlen hintereinander in dein Heft.



Schlage die siebente Seite auf. Unten rechts findest du eine **700** .

Zähle mit dem Finger von der 691 bis zur 710.

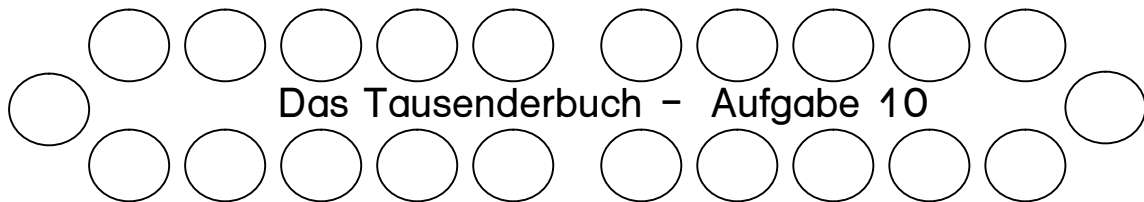
Schreibe die Zahlen hintereinander in dein Heft.



Schlage die achte Seite auf. Unten rechts findest du eine **800** .

Zähle mit dem Finger von der 791 bis zur 805.

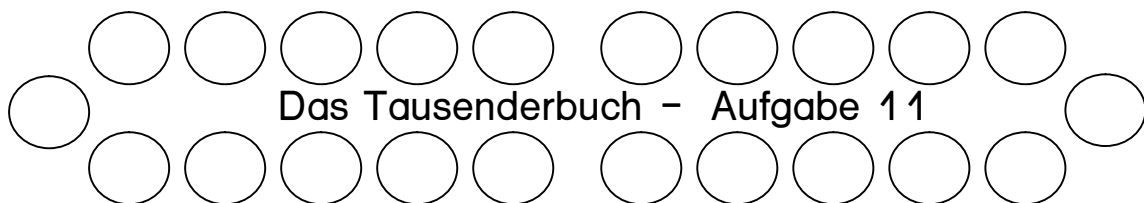
Schreibe die Zahlen hintereinander in dein Heft.



Schlage die neunte Seite auf. Unten rechts findest du eine **900**.

Zähle mit dem Finger von der 895 bis zur 902.

Schreibe die Zahlen hintereinander in dein Heft.

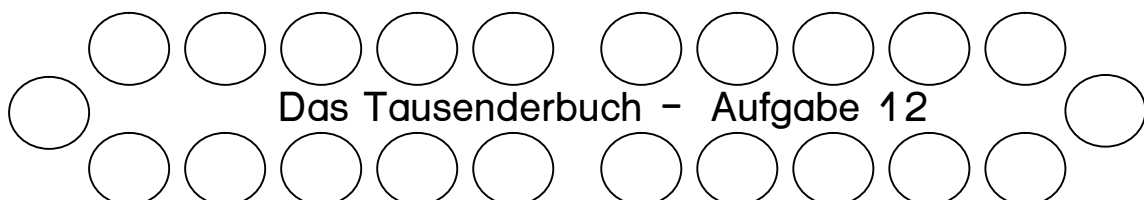


Suche die 106.

Fahre mit dem Finger die Spalte nach unten bis zur 196.

Zähle dabei alle Zahlen auf, die unter der 106 liegen.

Schreibe die Zahlen in dein Heft.

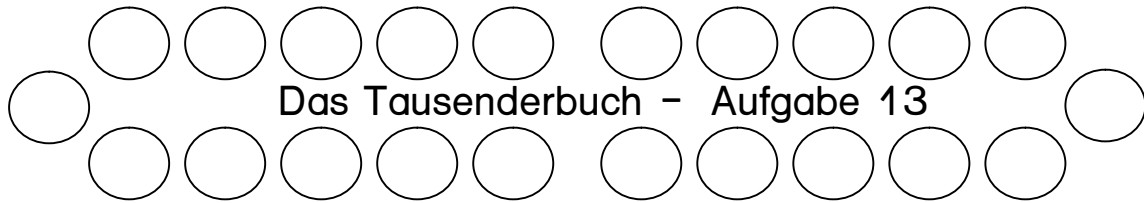


Suche die 341.

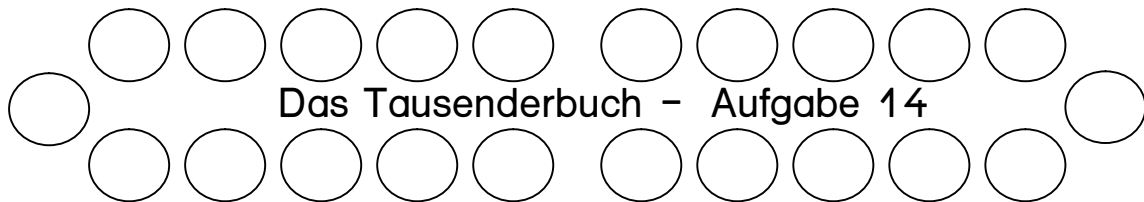
Fahre mit dem Finger die Zeile nach rechts bis zur 350.

Zähle dabei alle Zahlen auf, die neben der 341 liegen.

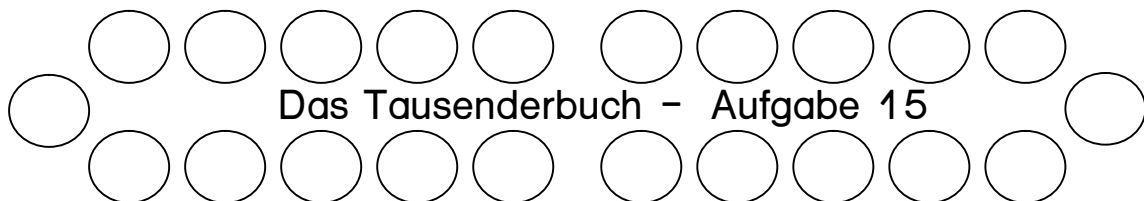
Schreibe die Zahlen in dein Heft.



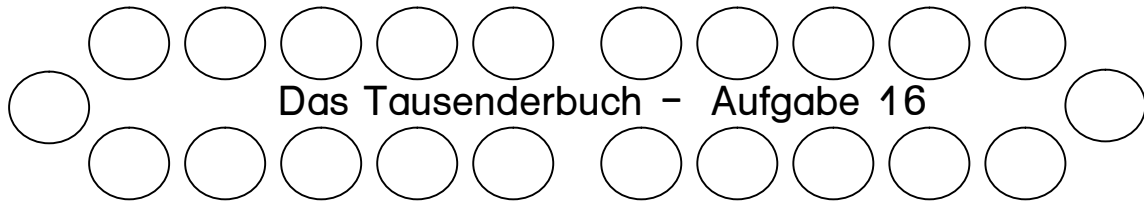
Suche die 401. Fahre mit dem Finger erst die Spalte nach unten und dann nach rechts bis zur 500.
Zähle dabei alle Zahlen auf, die auf dem Weg liegen.
Schreibe die Zahlen in dein Heft.



Suche die 501. Fahre mit dem Finger erst die Zeile nach rechts und dann nach unten bis zur 600.
Zähle dabei alle Zahlen auf, die auf dem Weg liegen.
Schreibe die Zahlen in dein Heft.



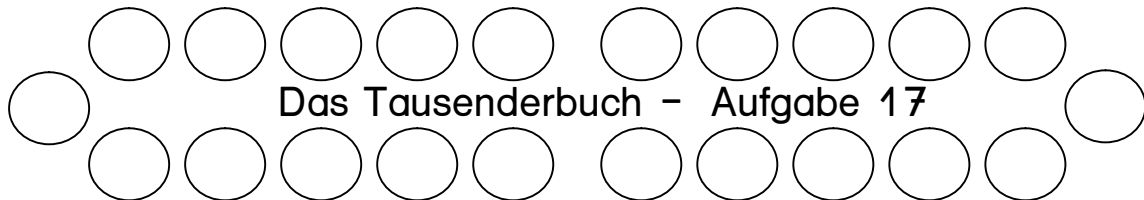
Suche die 624. Welche Zahlen auf dieser Seite haben auch 4 Einer?
Zähle mit dem Finger alle Zahlen auf, die 4 Einer haben.
Schreibe sie in dein Heft.



Suche die 773. Welche Zahlen auf dieser Seite haben auch 7 Zehner?

Zähle mit dem Finger alle Zahlen auf, die 7 Zehner haben.

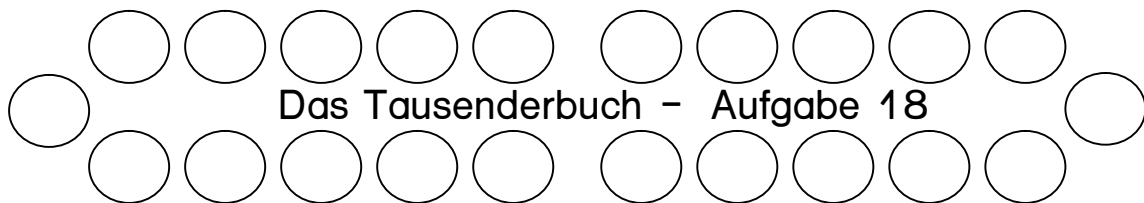
Schreibe die Zahlen in dein Heft.



Suche die Seite, auf der die Zahlen 8 Hunderter haben.

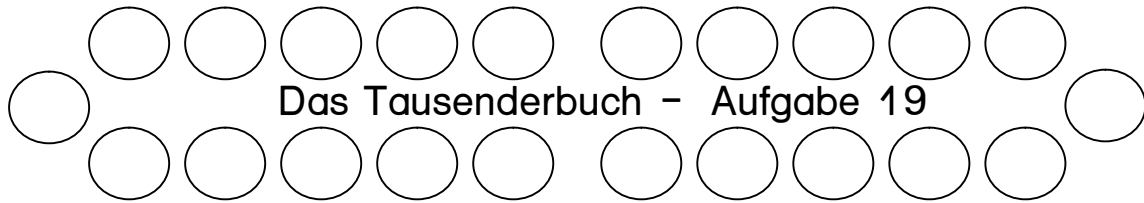
Eine Zahl auf dieser Seite hat keine 8 Hunderter. Welche ist das?

Schreibe sie in dein Heft.



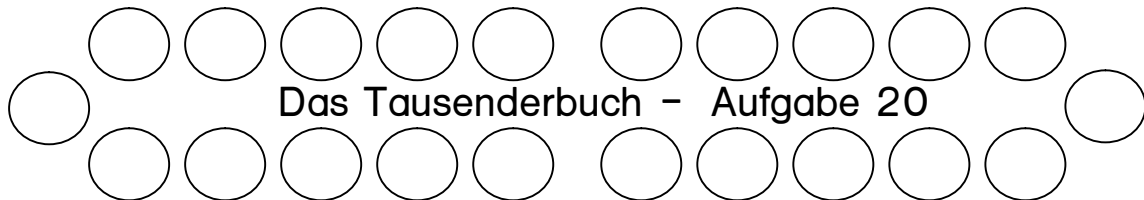
Suche die 955. Wie heißen der Vorgänger und der Nachfolger dieser Zahl?

Zeige beide mit dem Finger und schreibe sie in dein Heft.



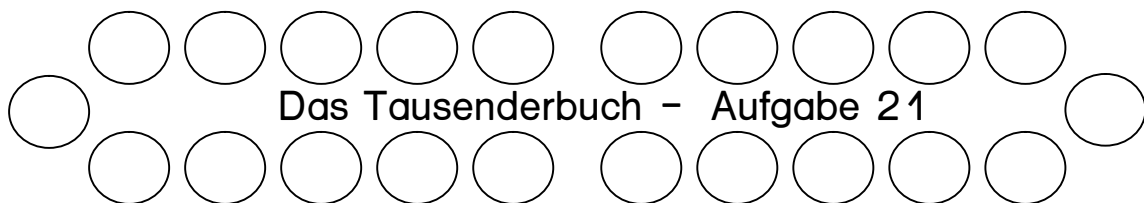
Das Tausenderbuch - Aufgabe 19

Suche auf jeder Seite den glatten Hunderter heraus (100, 200, 300, 400...).
Zeige mit dem Finger bei jedem Hunderter den Vorgänger und den Nachfolger.
Schreibe die Zahlen nebeneinander in dein Heft : 99 **100** 101



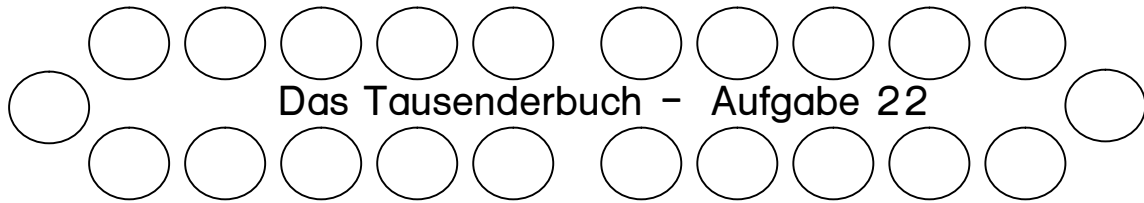
Das Tausenderbuch - Aufgabe 20

Suche die 235. Zähle 5 Schritte rückwärts. Bei welcher Zahl bist du jetzt?
Starte wieder bei 235. Zähle 5 Schritte vorwärts. Wo bist du nun?
Schreibe die beiden Zahlen, auf denen du gelandet bist, in dein Heft.
Tipp : Das sind die Nachbarzehner der 235!



Das Tausenderbuch - Aufgabe 21

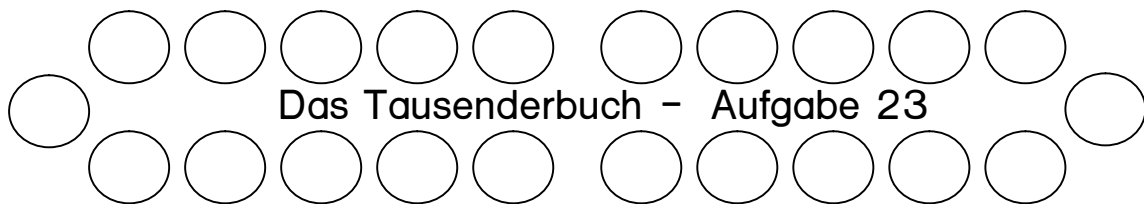
Suche die 356. Wie heißen die beiden Nachbarzehner?
Zeige sie mit dem Finger und schreibe sie in dein Heft : ____ 356 ____



Suche von folgenden Zahlen die Nachbarzehner heraus :

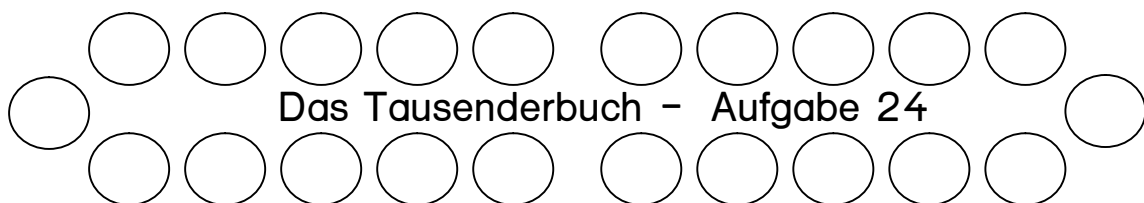
478, 534, 682, 768, 823

Zeige sie mit dem Finger und schreibe sie in dein Heft : ___ 478 ___



Suche die 895. Zwischen welchen beiden glatten Hundertern (grauen Feldern) liegt diese Zahl?

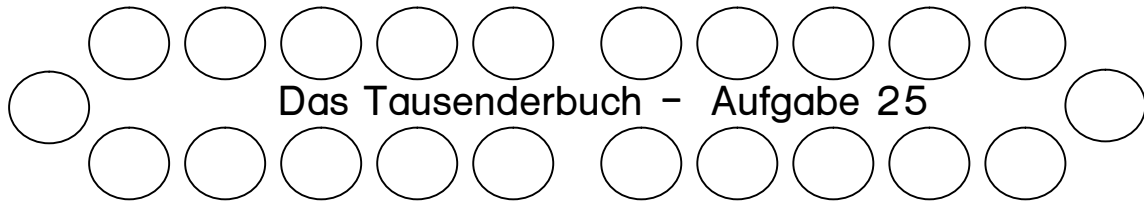
Zeige sie mit dem Finger und schreibe sie in dein Heft : ___ 895 ___



Suche von folgenden Zahlen die Nachbarhunderter heraus :

275, 434, 594, 601, 710

Zeige sie mit dem Finger und schreibe sie in dein Heft : ___ 275 ___

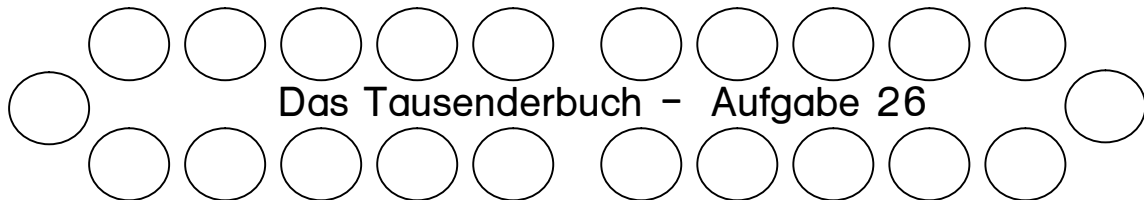


Jetzt wird es schwierig!

Wie heißen die Nachbarhunderter von der 45 und von der 955?

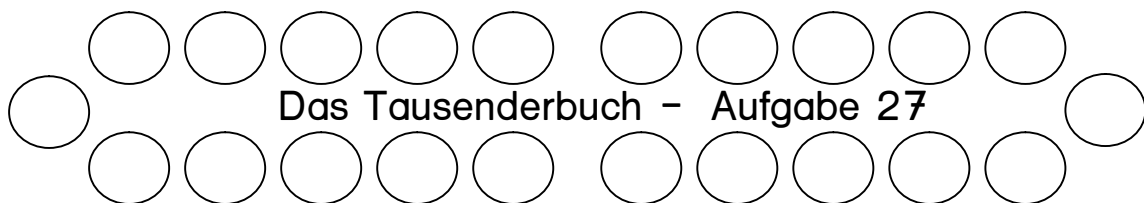
Zeige sie mit dem Finger und schreibe sie in dein Heft : ___ 45 ___

Achtung : Einen "Nachbarhunderter" kannst du gar nicht zeigen!



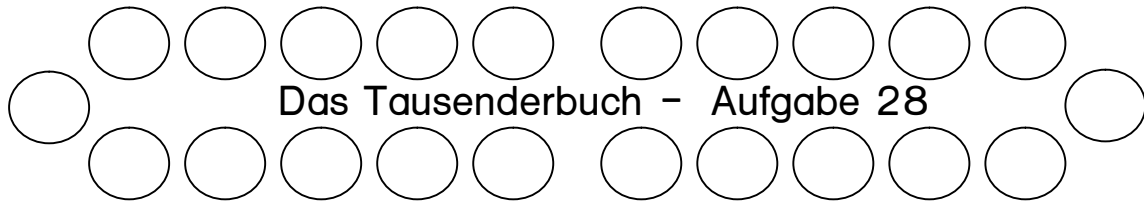
Suche die 320. Zähle in Zehnerschritten (320, 330, 340, ...) bis zur 500.

Zeige alle Zahlen mit dem Finger und schreibe sie hintereinander in dein Heft.



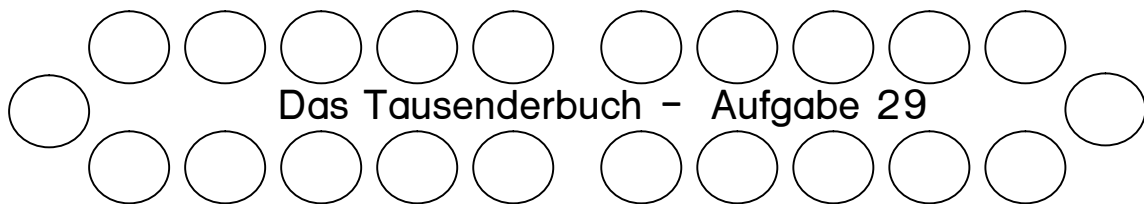
Suche die 760. Zähle in Zehnerschritten bis zur 940.

Zeige alle Zahlen mit dem Finger und schreibe sie hintereinander in dein Heft.



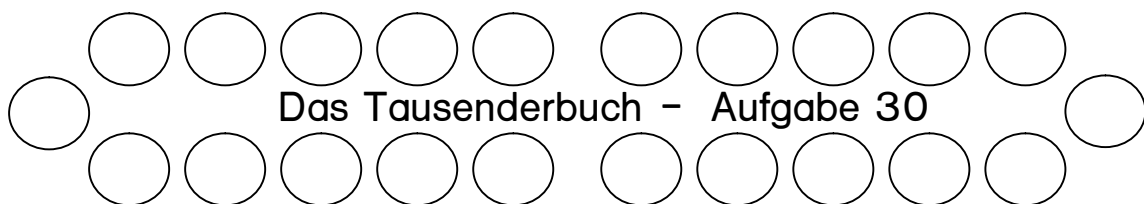
Suche die 107. Zähle in Zehnerschritten bis zur 327.

Zeige alle Zahlen mit dem Finger und schreibe sie hintereinander in dein Heft.



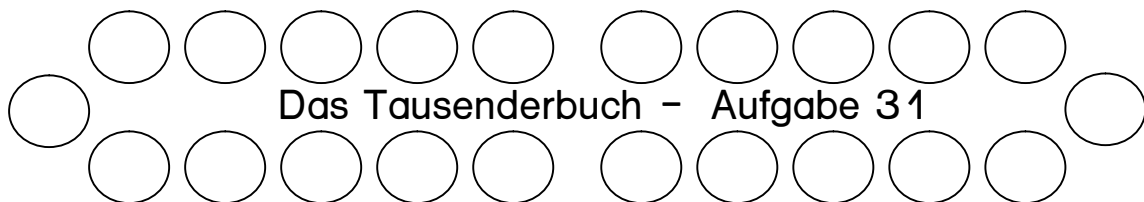
Suche die 882. Zähle rückwärts in Zehnerschritten bis zur 602.

Zeige alle Zahlen mit dem Finger und schreibe sie hintereinander in dein Heft.



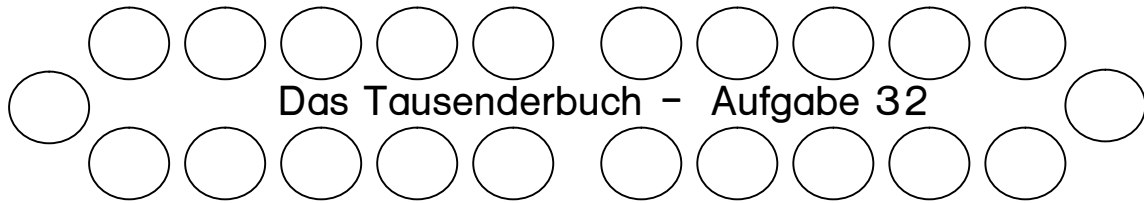
Suche die 145. Zähle in Hunderterschritten (145, 245, 345, ...) bis zur 945.

Zeige alle Zahlen mit dem Finger und schreibe sie hintereinander in dein Heft.



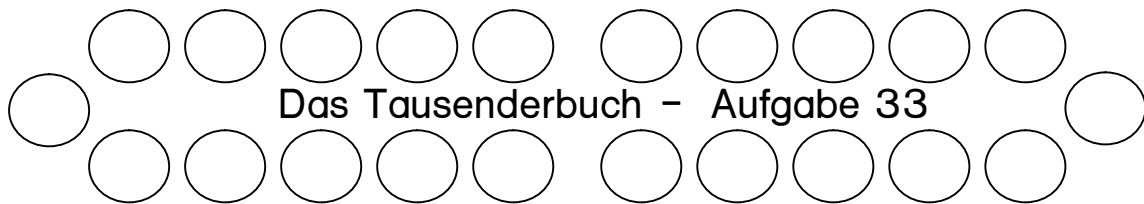
Suche die 63. Zähle in Hunderterschritten bis zur 963.

Zeige alle Zahlen mit dem Finger und schreibe sie hintereinander in dein Heft.



Suche die 919. Zähle rückwärts in Hunderterschritten bis zur ersten Seite des Tausenderbuches.

Zeige alle Zahlen mit dem Finger und schreibe sie hintereinander in dein Heft.



Kannst du das folgende Rätsel lösen?

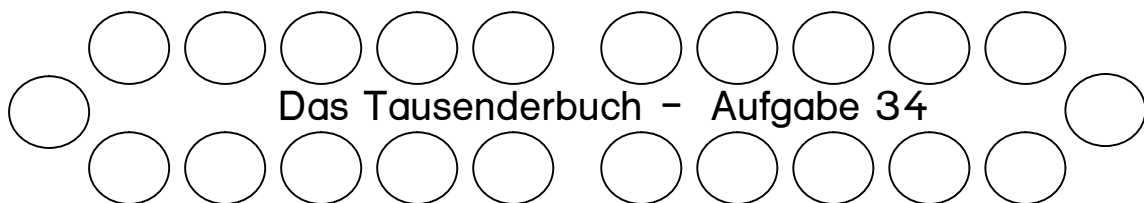
Starte bei der 164.

Zähle zwei Hunderterschritte weiter.

Zähle zwei Zehnerschritte rückwärts.

Zähle vorwärts bis zum Nachbarzehner.

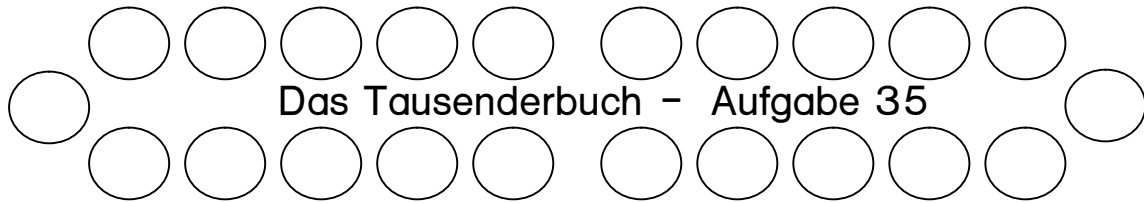
Wo bist du jetzt angekommen? Schreibe die Zahl in dein Heft.



Suche die 412. Wie viel fehlt bis zum nächsten Zehner?

Zähle die Schritte mit dem Finger und schreibe eine Aufgabe in dein Heft :

$$412 + \underline{\quad} = 420$$

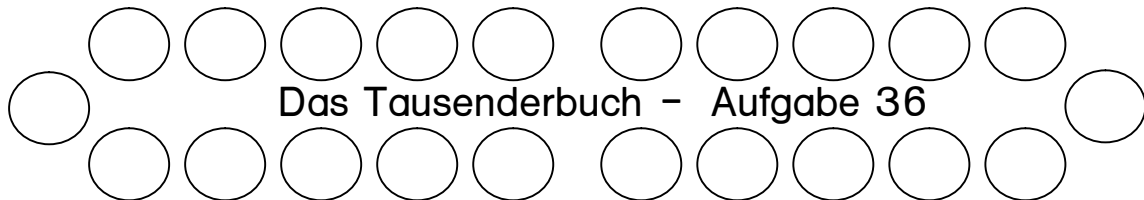


Suche die folgenden Zahlen und finde jeweils heraus, wie viel bis zum nächsten Zehner fehlt :

574, 637, 786, 823, 995

Zähle die Schritte immer mit dem Finger und schreibe alle Aufgabe in dein Heft :

$$574 + \underline{\quad} = 580$$

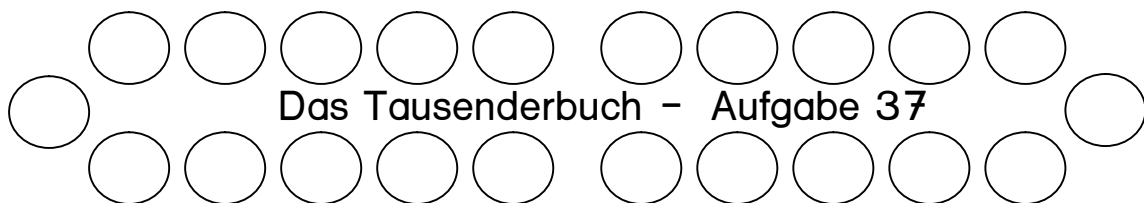


Suche die 177. Wie viele Schritte gehst du nach rechts zum nächsten Zehner?

Und wie viele Zehner gehst du nach unten zum vollen Hunderter?

Zähle die Schritte mit dem Finger und schreibe eine Aufgabe in dein Heft :

$$177 + \underline{\quad} + \underline{\quad} = 200$$

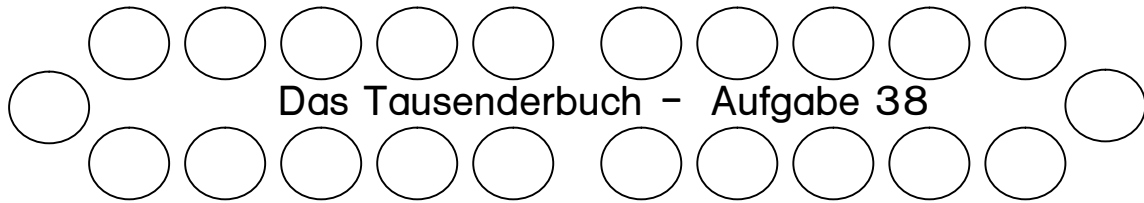


Suche die 356. Wie viele Schritte gehst du nach rechts zum nächsten Zehner?

Und wie viele Zehner gehst du nach unten zum vollen Hunderter?

Zähle die Schritte mit dem Finger, rechne Einer und Zehner zusammen

und schreibe eine Aufgabe in dein Heft : $356 + \underline{\quad} = 400$

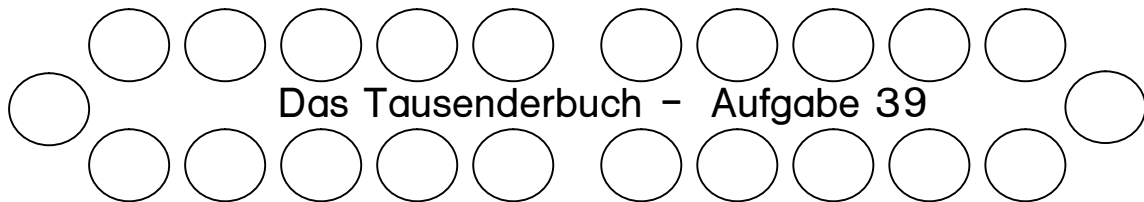


Suche die folgenden Zahlen und finde jeweils heraus, wie viel bis zum nächsten Hunderter fehlt :

418, 574, 637, 786, 823

Zähle die Einerschritte nach rechts und die Zehnerschritte nach unten immer mit dem Finger ab und schreibe alle Aufgaben in dein Heft :

$$418 + \underline{\quad} = 500$$



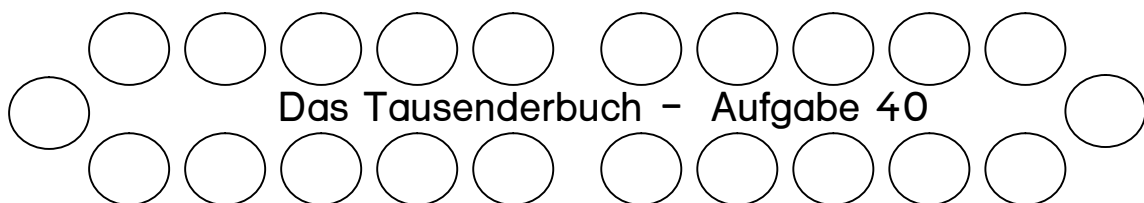
Suche die 755. Wie viele Schritte gehst du nach rechts zum nächsten Zehner?

Und wie viele Zehner gehst du nach unten zum vollen Hunderter?

Und wie viele Hunderter gehst du bis zur Tausend?

Zähle die Schritte mit dem Finger und schreibe eine Aufgabe in dein Heft :

$$755 + \underline{\quad} + \underline{\quad} + \underline{\quad} = 1000$$



Suche die folgenden Zahlen und finde jeweils heraus, wie viel bis zum Tausender fehlt :

418, 574, 637, 786, 823

Zähle die Einerschritte nach rechts und die Zehnerschritte nach unten und die Hunderterschritte durchs Buch immer mit dem Finger ab, rechne Einer, Zehner und Hunderter zusammen und schreibe alle Aufgaben in dein Heft :

$$418 + \underline{\quad} = 1000$$